


1 () に あてはまる ことばを かきましょう。

① 1時間 = (60) 分


② 1日 = (24) 時間

2 みなみさんは すいぞくかんへ 行きました。


家を出た時ごと



すいぞくかんについた時ごと



すいぞくかんを出た時ごと



① 時ごとを かきましょう。

- ・家を出た時ごと (1) 時
- ・すいぞくかんについた時ごと (1) 時 (20) 分
- ・すいぞくかんを出た時ごと (2) 時

② 時間を かきましょう。

- ・家を出てから すいぞくかんにつくまでに かかった 時間 (20) 分
- ・家を出てから すいぞくかんを出るまでの 時間 (120) 分

1 () に あてはまる ことばを かきましょう。

① 1時間 = (60) 分



② 1日 = (24) 時間

2 みなみさんは すいぞくかんへ 行きました。


家を出た時こく



すいぞくかんに
ついた時こく



すいぞくかんを
出た時こく



① 時こくを かきましょう。


- ・家を出た時こく (3) 時
- ・すいぞくかんに ついた 時こく (3) 時 (10) 分
- ・すいぞくかんを 出た 時こく (4) 時

② 時間を かきましょう。

- ・家を出てから すいぞくかんに つくまでに かかった 時間 (10) 分
- ・家を出てから すいぞくかんを 出るまでの 時間 (60) 分


つぎの 時こくを こたえましょう。

- ① 7時から 40分あとの 時こく ② 3時10分から 1時間前の



(7) 時 (40) 分

時こく




(2) 時 (10) 分

- ③ 1時50分から 1時間あとの 時こく ④ 10時30分から 20分前の




(2) 時 (50) 分

時こく




(10) 時 (10) 分

- ⑤ 9時15分から 30分あとの 時こく ⑥ 12時から 30分前の 時こく




(9) 時 (45) 分



(11) 時 (30) 分

- ⑦ 2時50分から 20分あとの 時こく ⑧ 11時10分から30分前の



(3) 時 (10) 分


時こく



(10) 時 (40) 分


つぎの 時ごとを こたえましょう。

- ① 9時から 50分あとの 時ごと ② 5時40分から 30分前の



(9) 時 (50) 分

時ごと



(5) 時 (10) 分

- ③ 3時20分から 1時間あとの 時ごと ④ 12時40分から 40分前の



(4) 時 (20) 分

時ごと




(12) 時 (00) 分

- ⑤ 8時40分から 30分あとの 時ごと ⑥ 7時から 50分前の 時ごと




(9) 時 (10) 分



(6) 時 (10) 分

- ⑦ 6時30分から 40分あとの 時ごと ⑧ 4時20分から 30分前の



(7) 時 (10) 分

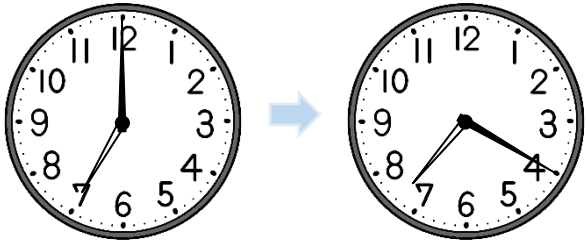
時ごと



(3) 時 (50) 分

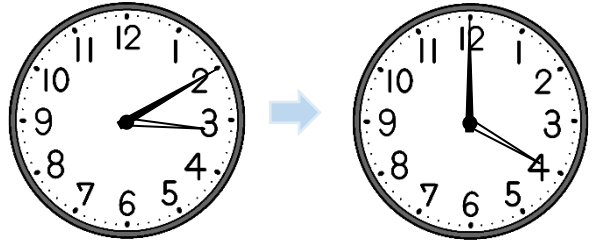
つぎの 時間を こたえましょう。

① 7時から 7時20分まで



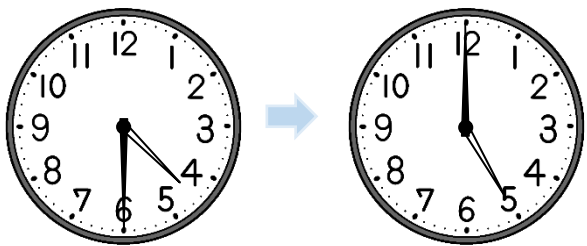
(20分)

② 3時10分から 4時まで



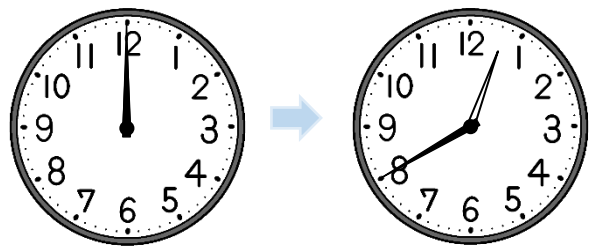
(50分)

③ 4時30分から 5時まで



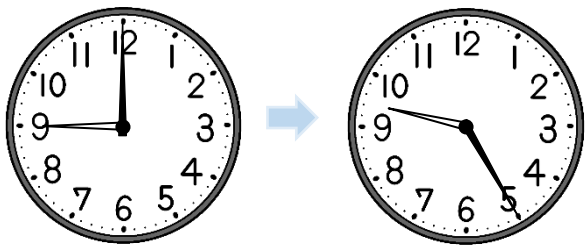
(30分)

④ 12時から 12時40分まで



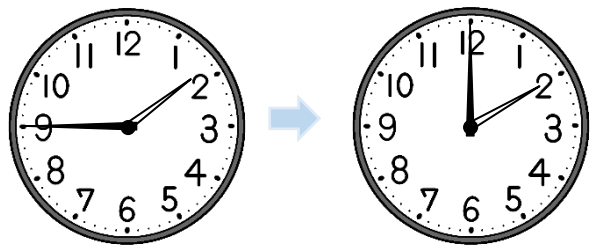
(40分)

⑤ 9時から 9時25分まで



(25分)

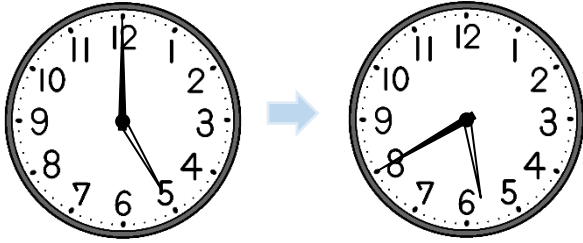
⑥ 1時45分から 2時まで



(15分)

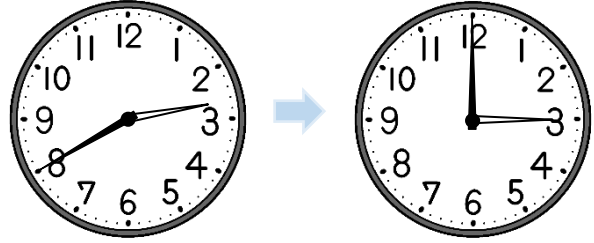
つぎの 時間を こたえましょう。

① 5時から 5時40分まで



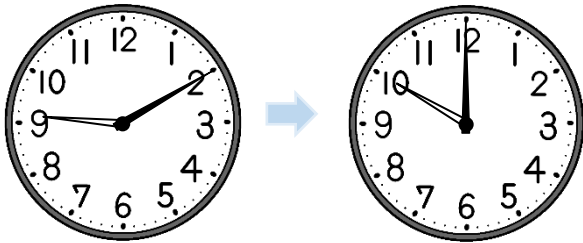
(40分)

② 2時40分から 3時まで



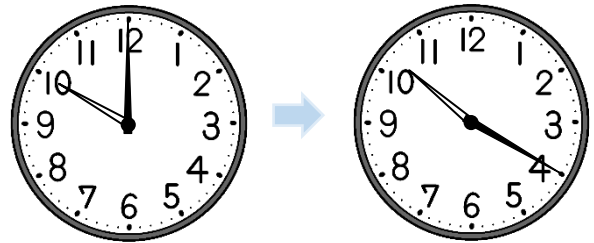
(20分)

③ 9時10分から 10時まで



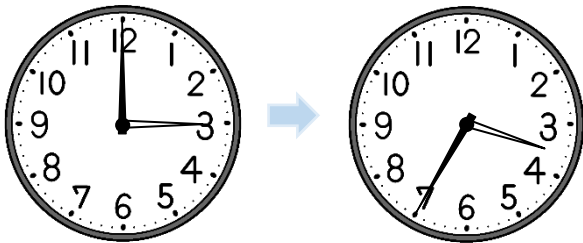
(50分)

④ 10時から 10時20分まで



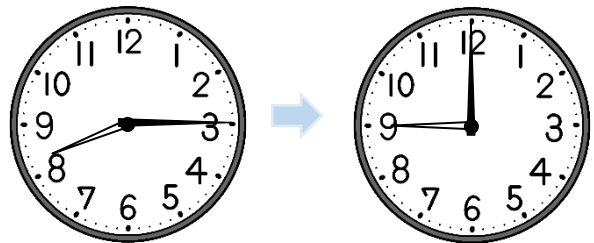
(20分)

⑤ 3時から 3時35分まで



(35分)


⑥ 8時15分から 9時まで



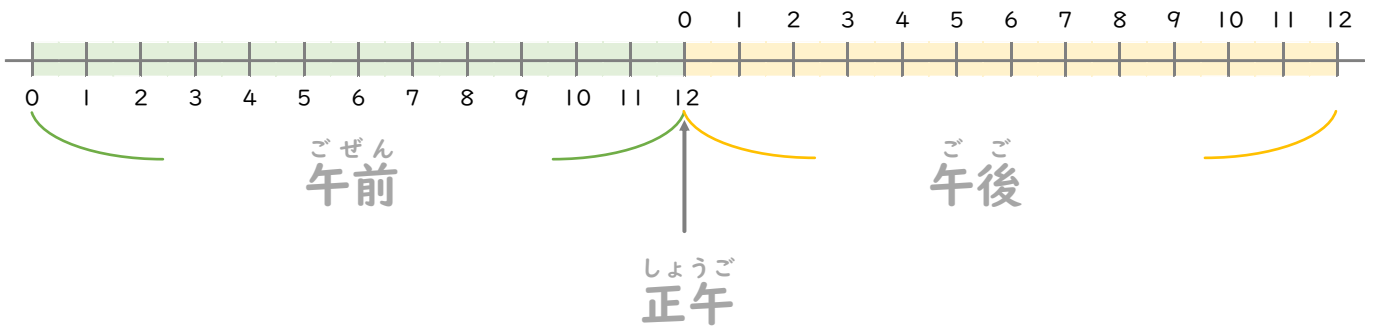

(45分)

つぎの もんだいに こたえましょう。

家を出た 時ごと



家に 帰った 時ごと



① 時ごとを 午前・午後を つかって こたえましょう。

- ア 家を出た 時ごと (午前 8時)
- イ 家に 帰った 時ごと (午後 3時)

② () に あてはまる 数字を かきましょう。


- ア 午前は (12) 時間、午後は (12) 時間です。
- イ 1日は (24) 時間です。
- ウ 午前 (12) 時の ことを 正午と いいます。
正午は、午後0時とも いいます。

③ 家を出てから 家に 帰るまでは 何時間ですか。

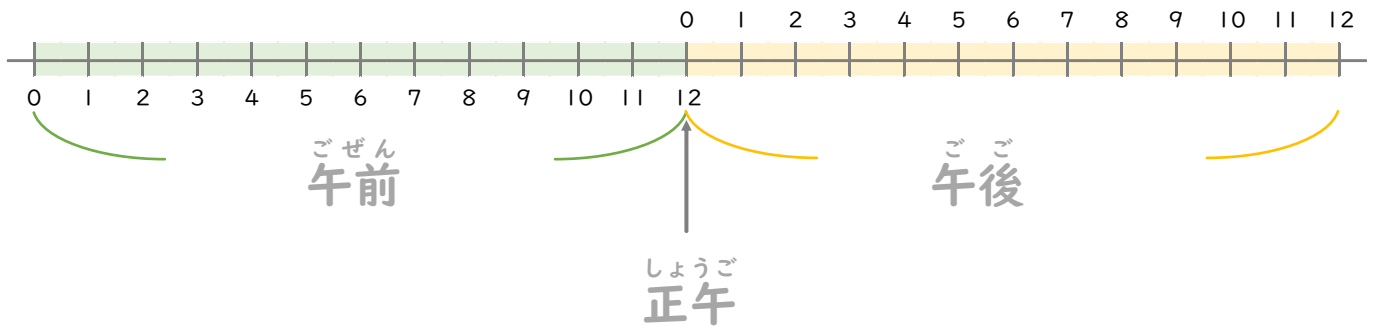

(7) 時間

つぎの もんだいに こたえましょう。

家を出た 時ごと



家に 帰った 時ごと



① 時ごとを 午前・午後を つかって こたえましょう。

- ア 家を出た 時ごと (午前 10時)
 イ 家に 帰った 時ごと (午後 2時)

② () に あてはまる 数字を かきましょう。

- ア 午前は (12) 時間、午後は (12) 時間です。
 イ 1日は (24) 時間です。
 ウ 午前 (12) 時の ことを 正午と いいます。
 正午は、午後0時とも いいます。

③ 家を出てから 家に 帰るまでは 何時間ですか。

(4) 時間